



1年

さんすう
プリント

なまえ

くみ

ぼん

1

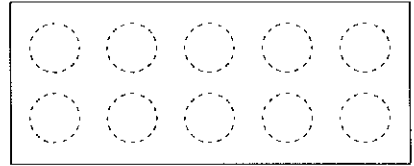

5までのかず 10までのかず

1 10までのかず

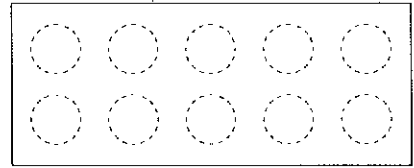

教 p.8 ~ 19

★ えのかずだけ ○ にいろをぬりましょう。

①





②




★ かぞえてかずをかきましょう。


③





④



⑤



⑥




2 おおきさくらべ

① 10までのかず

教 p.20

★ つぎの もんだいに こたえましょう。

① どちらがおおいでしょう。 おおいほうに○をつけましょう。



ぞう らいおん
ゾウ ライオン
() ()

★ おおきいほうに○をつけましょう。

②

3	1
()	()

③

5	9
()	()

④

8	4
()	()

⑤

6	2
()	()



1年

さんすう
プリント

<み

ぼん

なまえ

③ 0から10までのかず

1 10までのかず

教 p.22 ~ 23

★ つぎの もんだいに こたえましょう。

① □に□のかずをかきましょう。

★ □にかずをかきましょう。

② | 4 | — | 5 | — | | — | 7

③ | 10 | — | 9 | — | | — | 7

④ | 2 | — | | — | 4 | — | | — | 6

⑤ | | — | 1 | — | | — | 3



なまえ

くみ


ぼん


4 なんばんめ


② なんばんめ


教 p.26 ~ 28

★ えをみて□にかずをかきましょう。



①  はまえから ばんめ。

②  はうしろから ばんめ。

③  はまえから ばんめ。

★ ○にいろをぬりましょう。

④ ひだりから2つめ



⑤ ひだりから2つ



⑥ みぎから3つめ





1年

さんすう
プリント

なまえ

くみ

ばん


5 いくつといくつ①

③ いくつといくつ


教 p.30 ~ 34

★ あといくつで5になるでしょう。

①




②



★ あといくつで6になるでしょう。

③



④



★ 7はいくつといくつでしょう。

⑤ 2と

⑥ 4と

⑦ 1と

★ 8はいくつといくつでしょう。

⑧ 1と

⑨ 6と

⑩ 4と

★ 9はいくつといくつでしょう。

⑪ 3と

⑫ 5と

⑬ 8と



1年

さんすう
プリント

くみ

ぼん

なまえ

⑥ いくつといくつ②

③ いくつといくつ

教 p.35

★ 10はいくつといくつでしょう。またいくつといくつにあわせて○をぬりましょう。

	○ ○ ○ ○ ○ ○ ○ ○ ○ ○
	○ ○ ○ ○ ○ ○ ○ ○ ○ ○
	○ ○ ○ ○ ○ ○ ○ ○ ○ ○
	○ ○ ○ ○ ○ ○ ○ ○ ○ ○
④	○ ○ ○ ○ ○ ○ ○ ○ ○ ○
⑤	○ ○ ○ ○ ○ ○ ○ ○ ○ ○
⑥	○ ○ ○ ○ ○ ○ ○ ○ ○ ○
⑦	○ ○ ○ ○ ○ ○ ○ ○ ○ ○
⑧	○ ○ ○ ○ ○ ○ ○ ○ ○ ○


	1と9
①	2と
②	と
③	と
	5と5
	6と4
	7と3
	8と2
	9と1

★ あといくつで10になるでしょう。

⑨



⑩





1年

さんすう
プリント

なまえ

くみ

ばん

7 あわせていくつ

④ あわせていくつ
ふえるといくつ

教 p.37 ~ 40

★ つぎの もんだいに こたえましょう。

- ① あかいはなが3ぼん，きいろいはなが5ぼんあります。
あわせてなんぼんあるでしょう。

(しき)

こたえ _____

★ けいさんをしましょう。

② $2 + 2$

③ $1 + 4$

④ $7 + 3$

⑤ $5 + 4$

⑥ $3 + 6$

⑦ $2 + 4$

⑧ $1 + 9$

⑨ $6 + 2$

⑩ $2 + 5$

⑪ $5 + 5$



なまえ _____
 くみ _____ ばん _____

8 ふえるといくつ

④ あわせていくつ
 ふえるといくつ
 教 p.41 ~ 44

★ つぎの もんだいに こたえましょう。

- ① さかなが 4 ひき います。そこに 3 ひき きました。
 みんなで なんびき になったでしょう。

(しき)

こたえ _____

★ けいさんを しましょう。

② $3 + 3$

③ $2 + 3$

④ $4 + 4$

⑤ $1 + 8$

⑥ $3 + 7$

⑦ $2 + 5$

⑧ $2 + 8$

⑨ $4 + 2$

⑩ $1 + 6$

⑪ $6 + 4$



1年

さんすう
プリント

なまえ

くみ

ばん

9 のこりはいくつ

⑤ のこりはいくつ
ちがいはいくつ

教 p.47 ~ 50

★ つぎの もんだいに こたえましょう。

- ① りんごが 8 こ ありました。3 こ たべました。
のこりの りんごは なんこ になったでしょう。

(しき)

こたえ

- ② おりがみが 10 まい ありました。5 まい つかいました。
のこりの おりがみは なんまい になったでしょう。

(しき)

こたえ

★ けいさんを しましょう。

③ $2 - 1$

④ $4 - 2$

⑤ $8 - 5$

⑥ $9 - 4$

⑦ $10 - 9$

⑧ $7 - 2$



1年

さんすう
プリント

なまえ

くみ

ばん

10 ちがいはいくつ

⑤ のこりはいくつ
ちがいはいくつ

教 p.51 ~ 54

★ つぎの もんだいに こたえましょう。

- ① いぬが 10 ひき います。ねこが 7 ひき います。
どちらが なんびき おおいでしょう。

(しき)

こたえ _____ が _____ びき おおい。

- ② プリンが 5 こ あります。ゼリーが 9 こ あります。
プリンとゼリーのかずのちがいはなんこでしょう。

(しき)

こたえ _____

★ けいさんをしましょう。

③ $5 - 1$

④ $6 - 5$

⑤ $3 - 1$

⑥ $7 - 4$

⑦ $9 - 7$

⑧ $10 - 6$



1年

さんすう
プリント

なまえ

くみ

ばん

11

たしざんかな ひきざんかな

⑤ のこりはいくつ
ちがいはいくつ

教 p.57 ~ 58

★ つぎの もんだいに こたえましょう。

- ① りんごが 8 こ あります。2 こ もらうと ぜんぶで
なんこになるでしょう。

(しき)

こたえ

- ② かきが 3 こ あります。なしが 7 こ あります。
どちらが なんこ おおいでしょう。

(しき)

こたえ が こおおい。

- ③ こどもが 9 にん います。おとこのこは 4 にん です。
おんなのこは なんにん でしょう。

(しき)

こたえ

- ④ あかい はなが 2 ほん あります。きいろい はなが 6 ぽん
あります。

ぜんぶで なんぽん の はなが あるでしょう。

(しき)

こたえ



さんすう
プリント

なまえ _____
くみ _____ ばん _____

12 20までのかず

7 10より おおきい
かず

教 p.63 ~ 69

★ かぞえて かずをかきましょう。

①

□

②

□

★ □にかずをかきましょう。

③ 18は10と □

④ 10と4で □

⑤ 10と6で □

⑥ 17は10と □

★ □にかずをかきましょう。

⑦

15			17
----	--	--	----

⑧

20			18		17
----	--	--	----	--	----



1年

さんずう
プリント

なまえ

くみ

ばん

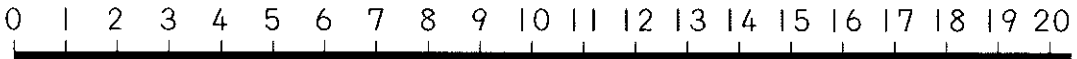
13

かずのせん
20より おおきい かず

7 10より おおきい
かず

教 p.70 ~ 72

★ □に かずを かきましょう。



① 16より3 おおきい かずは

② 20より6 ちいさい かずは

③ 17は12より おおきい かず



④ 8は13より ちいさい かず

★ おおきいほうを ○で かこみましょう。

⑤ 19 20

⑥ 17 9

★ かぞえて かずを かきましょう。





1年

さんすう
プリント

くみ

ぼん

なまえ

14 たしざんとひきざん①

7 10より おおきい
かず

教 p.73

★ つぎの もんだいに こたえましょう。

- ① あめを 10 こ もっています。
3 こ もらうと、なんこになるでしょう。
(しき)

こたえ _____

- ② いちごが 12 こ あります。
6 こ かってくると、なんこになるでしょう。
(しき)

こたえ _____

★ けいさんを しましょう。

③ $10 + 1$

④ $10 + 6$

⑤ $14 + 5$

⑥ $11 + 7$

⑦ $23 + 5$

⑧ $26 + 3$



1年

さんすう
プリント

くみ

ばん

なまえ

15 たしざんとひきざん②

7 10より おおきい
かず

教 p.74

★ つぎの もんだいに こたえましょう。

- ① ^{ちよこれえと}チョコレートが18こ ありました。4こ たべました。
のこりは なんこに なったでしょう。

(しき)

こたえ

- ② 17まいの ^{くっきい}クッキーのうち7まいを たべました。
のこりは なんまいに なったでしょう。

(しき)

こたえ

★ けいさんを しましょう。

③ $13 - 3$

④ $16 - 6$

⑤ $19 - 8$

⑥ $18 - 2$

⑦ $27 - 5$

⑧ $29 - 4$

なまえ

<み

ぼん



1年
さんすう
プリント


16 たのしい にちようび

⑧ なんじ なんじはん


⑨ p.76 ~ 77

★ とけいを よみましょう。


①




②



③



④





★ ながいはりをかきましょう。

⑤ 12じはん

⑥ 9じ

⑦ 6じはん





1年

さんすう
プリント

なまえ

くみ

ばん

17 3つのかずのけいさん①

9 3つのかずの
けいさん

教 p.81 ~ 84 ◀ 4

★ つぎの もんだいに こたえましょう。

- ① あかいふうせんが2こ、あおいふうせんが1こ、
きいろいふうせんが6こあります。

ふうせんはぜんぶでなんこあるでしょう。

1つのしきにかいて、こたえましょう。

(しき)

こたえ

- ② 14まいのせんべいがありました。4まいたべたあと、
3まいたべました。

せんべいはなんまいになったでしょう。

1つのしきにかいて、こたえましょう。

(しき)

こたえ

★ けいさんをしましょう。

③ $2 + 5 + 1$

④ $6 + 4 + 6$

⑤ $10 - 2 - 2$

⑥ $14 - 4 - 8$



1年

さんすう
プリント

なまえ

くみ

ばん

18 3つのかずのけいさん②

⑨ 3つのかずの
けいさん

教 p.84 習 ~ 85

★ つぎのもんだいにこたえましょう。

- ① じどうしゃが8だいとまっていたいました。2だいしゅっぱつしたあと、3だいきました。じどうしゃはなんだいになったでしょう。1つのしきにかいて、こたえましょう。

(しき)

こたえ

- ② たまごが7こありました。きょう3こかってきて、4こつかいました。たまごはなんこになったでしょう。1つのしきにかいて、こたえましょう。

(しき)

こたえ

★ けいさんをしましょう。

③ $3 + 4 - 2$

④ $8 - 6 + 3$

⑤ $5 + 5 - 2$

⑥ $10 - 4 + 3$

⑦ $10 + 8 - 1$

⑧ $17 - 7 + 3$



1年

さんすう
プリント

なまえ

くみ

ばん

19

ながさくらべ
ひろさくらべ

10 ながさくらべと
ひろさくらべ

教 p.89 ~ 93

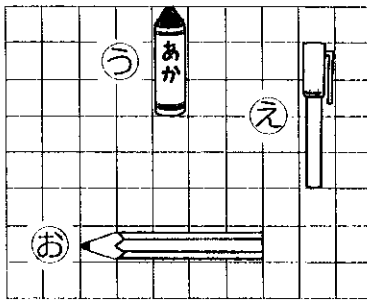
★ つぎの もんだいに こたえましょう。

① どちらがながいでしょう。



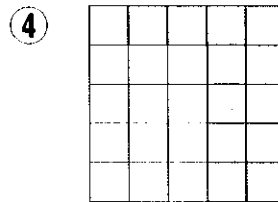
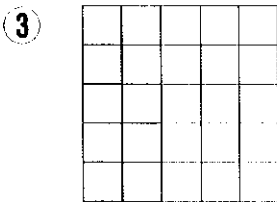
こたえ _____

② ながいじゆんにかきましょう。



こたえ _____

★ いろをぬったところとぬっていないところでは、
どちらがひろいでしょう。



③の こたえ _____

④の こたえ _____



1年

さんすう
プリント

なまえ

くみ

ばん

20 たしざん①

II たしざん

教 p.95 ~ 97 ◀ 3

★ つぎの もんだいに こたえましょう。

① あめが 9 こ あります。6 こ もらうと ぜんぶで なんこに
なるでしょう。

(しき)

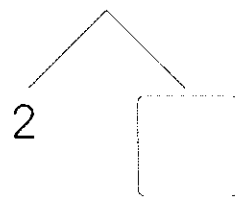
こたえ _____

★ [] に あてはまる かずを かきましょう。

② $9 + 8$



③ $8 + 4$



★ けいさんを しましょう。

④ $8 + 3$

⑤ $7 + 5$

⑥ $9 + 6$

⑦ $8 + 3$



1年

さんすう
プリント

くみ

ほん

なまえ

21 たしざん②

11 たしざん

教 p.97 5 ~ 5

★ つぎのもんだいにこたえましょう。

- ① くるまが4だいとまっています。9だいくると
ぜんぶでなんだいになるでしょう。
(しき)

こたえ _____

★ けいさんをしましょう。

② $3 + 8$

③ $5 + 8$

④ $5 + 6$

⑤ $7 + 8$

⑥ $6 + 9$

⑦ $9 + 9$



1年

さんすう
プリント

くみ

ばん

なまえ

22 ひきざん①

13 ひきざん
教 p.103 ~ 104

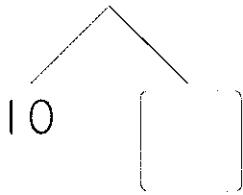
★ つぎの もんだいに こたえましょう。

- ① クッキーが12まいあります。8まいたべるとのこりはなんまいになるでしょう。
(しき)

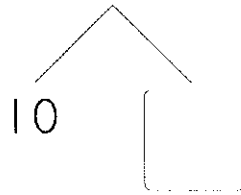
こたえ _____

★ □にあてはまるかずをかきましょう。

② $15 - 9$



③ $12 - 7$



★ けいさんをしましょう。

④ $13 - 8$

⑤ $14 - 9$

⑥ $12 - 9$

⑦ $11 - 7$



1年

さんすう
プリント

なまえ

くみ

ばん

23 ひきざん②

13 ひきざん

教 p.105

★ つぎの もんだいに こたえましょう。

- ① こどもが 13 にん あそんでいます。4 にん かえると
のこりは なんにん になるでしょう。
(しき)

こたえ

- ② みかんが 5 こ あります。くりが 12 こ あります。
どちらが なんこ おおいでしょう。
(しき)

こたえ が こおい。

★ けいさんを しましょう。

③ $11 - 3$

④ $14 - 5$

⑤ $15 - 6$

⑥ $12 - 6$



1年

さんすう
プリント

なまえ

くみ ばん

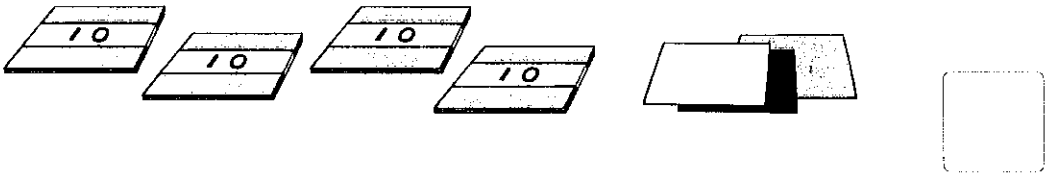
24 100までのかず

15 30より大きい
かず

教 p.117 ~ 121 ◀ 5

★ かぞえて かずをかきましょう。

①



★ □にあてはまる かずをかきましょう。

② 73の^{じゅう}十のくらいのすうじは □で、^{いち}一のくらいの
すうじは □です。

③ 10を5こあつめたかずは、 □です。

④ 10を8こと、1を9こあわせたかずは、 □です。

⑤ 63は10を □こと、1を □こあわせた
かずです。

⑥ 99より1^{おお}大きいかずは □です。

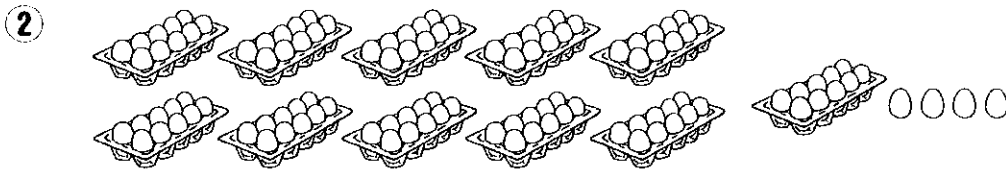
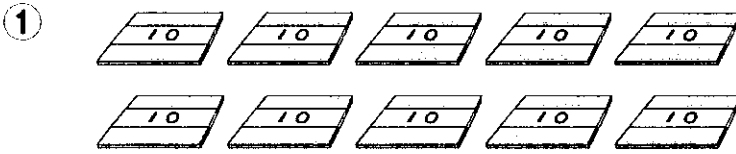


なまえ _____
くみ _____ ばん _____



25 100より大きいかず かずのせん

15 30より大きい
かず
教 p.123 ~ 125

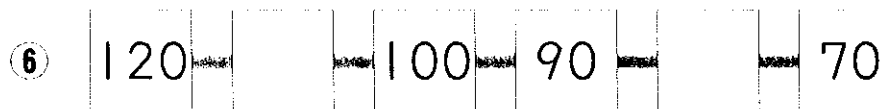
★ かぞえて かずをかきましょう。



★ おお 大きいほうを○でかこみましょう。



★ □に かずをかきましょう。





1年

さんすう
プリント

なまえ

くみ

ばん

26 たしざんとひきざん

15 30より大きい
かず

教 p.126 ~ 127

★ けいさんをしましょう。

① $70 + 30$

② $50 + 7$

③ $4 + 33$

④ $100 - 20$

⑤ $94 - 4$

⑥ $75 - 3$



1+

さんすう
プリント

なまえ

くみ

ほん

27 なんじなんぷん

16 なんじなんぷん

教 p.132 ~ 134


★ なんじなんぷんでしょう。

①



こたえ _____

②




こたえ _____

③



こたえ _____

④



こたえ _____

⑤



こたえ _____

⑥



こたえ _____



なまえ _____
 くみ _____ ほん _____

28 ずをつかってかんがえよう

17 ずをつかってかんがえよう
 教 p.135 ~ 139

★ つぎの もんだいに こたえましょう。

① 6人にクッキーを1まいずつあげました。クッキーはまだ3まいあります。

クッキーはぜんぶでなんまいあったでしょう。

ずのつづきをかいてこたえましょう。

(ず) 人 ● ● ● ● ● ●

クッキー

(しき)

こたえ _____

② ^{あか}赤いチュールリップが7^{ほん}本さいています。^{しろ}白いチュールリップは赤よりも4本すくないそうです。

白いチュールリップはなん本さいているでしょう。

ずのつづきをかいてこたえましょう。

(ず) 赤 ● ● ● ● ● ● ●

7本

白

(しき)

こたえ _____